


Atividade 2 | Grupo 1 - Matemática

ATIVIDADE –CONHECENDO UM ITEM


1) Na atividade abaixo, destaque o enunciado, o suporte, gabarito, distratores e o comando do item.

Em um jogo Felipe, Luiz e Fábio lançam um dado cada um. A soma dos pontinhos pretos que aparecem em suas faces é o total de pontos da jogada.


Observe os dados que Felipe, Luiz e Fábio lançaram na primeira rodada desse jogo.



Felipe



Luiz



Fábio

De acordo com essa jogada, quantos pontos as três crianças fizeram na primeira rodada desse jogo?

- A) 15
- B) 14
- C) 10
- D) 9